

d) Egy téglatest két élének hossza egymást követő két egész számmal adható meg, a testátlójának hossza pedig az előző két egész szám szorzatánál 1-gyel nagyobb. Igazoljuk, hogy a téglatest harmadik élének hossza is egész számmal adható meg. (16 pont)

8. Tóbiás király (akit a mesében a nép csak Palacsintás királynak nevez) nagyon elszegényedett, ezért kénytelen volt január elsején a Derelye főszakács érdekeltségi köréhez tartozó banktól 8 millió fabatka kölcsönt felvenni. A Derelye Bank 12 évi futamidőre, évi 9%-os kamatra adta a kölcsönt, és ezt minden év végén egyenlő összegekkel kell visszafizetnie a királynak. Mennyi lesz az évente visszafizetendő törlesztőrészlet? Mennyi pénzt fizet vissza összesen 12 év alatt a király? (16 pont)

9. Bea nagyon szereti a természetet. Az egyik teljesítménytúra alkalmával egy vízszintes, sík tisztás egyik pontjából egy irányba nézve két hegycsúcsot pillantott meg. A közelebbi  $C$  hegycsúcs  $\gamma = 15^\circ$ , a távolabbi  $D$  hegycsúcs pedig  $\delta = 21^\circ$  emelkedési szögben látszik. Tudjuk, hogy a két hegycsúcs távolsága légvonalban 1000 méter. Anita valamennyivel már közelebb van a  $C$  csúcshoz, és ő a két hegycsúcsot egy közös  $\alpha = 30^\circ$  emelkedési szögben látja.

a) Milyen magasan vannak a csúcsok Bea és Anita nézőpontjához képest, ha a testmagasságukat azonosnak vehetjük?

b) Mekkora a távolság Bea és Anita között?

c) Egy 1 : 40 000 méretarányú turistatérképen bejelöljük Bea helyét. Hány centiméterre van ettől a ponttól a távolabbi hegycsúcs a térképen? (16 pont)

Számadó László  
Budapest

## Megoldásvázlatok a 2017/7. szám emelt szintű matematika gyakorló feladatsorához

### I. rész

1. Oldjuk meg a valós számok halmazán az alábbi egyenlőtlenséget, illetve egyenletet:

a)  $\log_4(x^2 - 3x) \leq 1$ ; (5 pont)

b)  $x^2 \cdot |\sin x| = \sin x$ . (6 pont)

**Megoldás.** a) Az egyenlőtlenségnek csak akkor van értelme, ha  $x^2 - 3x > 0$ , azaz  $x < 0$  vagy  $x > 3$ . A 4-es alapú logaritmusfüggvény szigorúan monoton növekedő, ezért  $x^2 - 3x \leq 4$ , melyet rendezve  $x^2 - 3x - 4 \leq 0$ .

Az  $x^2 - 3x - 4 = 0$  egyenlet gyökei  $-1$  és  $4$ . Mivel az  $x^2 - 3x - 4 \leq 0$  egyenlőtlenségben a másodfokú tag együtthatója pozitív, ezért  $-1 \leq x \leq 4$ .

A kapott gyököket az értelmezési tartománnyal összevetve az eredeti egyenlőtlenség megoldáshalmaza

$$[-1; 0[ \cup ]3; 4].$$

b) *I. megoldás (esetszétválasztással).* Ha  $\sin x > 0$ , akkor  $x^2 = 1$ , melynek gyökei  $-1$  és  $1$ . A kapott gyököket a feltétellel összevetve csak az  $1$  jó.

Ha  $\sin x < 0$ , akkor  $x^2 = -1$ , melynek nincs megoldása a valós számok halmazán.

Ha  $\sin x = 0$ , akkor  $x = k \cdot \pi$ ,  $k \in \mathbb{Z}$ .

Ellenőrzés behelyettesítéssel vagy az ekvivalens átalakításokra történő hivatkozás.

*II. megoldás (értékkészlet vizsgálatával).* Az egyenlet bal oldalán álló kifejezés nemnegatív, ezért a jobb oldalon álló kifejezésnek is nemnegatívnak kell lennie. Mivel  $\sin x \geq 0$ , ezért az abszolútérték-jel elhagyható.

Ha  $\sin x > 0$ , akkor  $x^2 = 1$ , melynek gyökei  $-1$  és  $1$ . A kapott gyököket a feltétellel összevetve csak az  $1$  jó.

Ha  $\sin x = 0$ , akkor  $x = k \cdot \pi$ ,  $k \in \mathbb{Z}$ .

Ellenőrzés behelyettesítéssel vagy az ekvivalens átalakításokra történő hivatkozás.

**2.** *Egy ismert hazai társasjáték játéktábláján körben egymás után 40 sorszámozott mező található. A játékosok az 1. sorszámú START mezőről indulnak, és mindig annyit lépnek előre, amennyit egy szabályos dobókockával dobnak. Ha egy játékos bábujaival olyan mezőre lép, ahol már áll egy másik bábu, akkor kiüti azt, és a kiütött bábút a START mezőre visszahelyezi. A játékosok a játékot játékpénzzel játsszák, és annak megkezdésekor mindenki 20 000 Ft kezdőösszeggel indul.*

a) *Hányféle sorrendben számolhat le a pénztáros Csabának 2 db 5000 Ft-os, 8 db 1000 Ft-os, 3 db 500 Ft-os és 5 db 100 Ft-os játékpénzt? (3 pont)*

b) *Hányféle különböző címletezésben kaphatja meg Csaba a kezdőösszeget, ha csak a három nagy címlet (5000 Ft, 1000 Ft és 500 Ft) mindegyikéből kap? (4 pont)*

c) *Csaba első tizenöt dobásának átlaga 4,2 volt, és közben egyszer sem ütötték ki. Hányas sorszámú mezőn áll most Csaba figurája? (3 pont)*

d) *László figurája kettő mezővel áll Csabáé mögött, miután Csaba lépett. Mekkora annak a valószínűsége, hogy László a következő dobásával kiüti Csabát? (2 pont)*

**Megoldás.** a) A sorrendek száma:

$$\frac{18!}{2! \cdot 8! \cdot 3! \cdot 5!} (= 110\,270\,160).$$

b) A lehetséges 27 különböző címletezés a következő táblázatban látható:

5000 Ft	1000 Ft	500 Ft
3 db	4 db	2 db
3 db	3 db	4 db
3 db	2 db	6 db
3 db	1 db	8 db
2 db	9 db	2 db
2 db	8 db	4 db
2 db	7 db	6 db
2 db	6 db	8 db
2 db	5 db	10 db
2 db	4 db	12 db
2 db	3 db	14 db
2 db	2 db	16 db
2 db	1 db	18 db

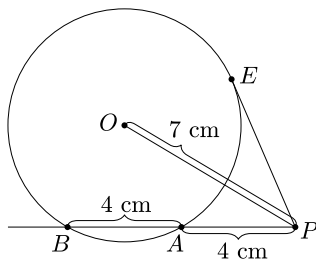
5000 Ft	1000 Ft	500 Ft
1 db	14 db	2 db
1 db	13 db	4 db
1 db	12 db	6 db
1 db	11 db	8 db
1 db	10 db	10 db
1 db	9 db	12 db
1 db	8 db	14 db
1 db	7 db	16 db
1 db	6 db	18 db
1 db	5 db	20 db
1 db	4 db	22 db
1 db	3 db	24 db
1 db	2 db	26 db
1 db	1 db	28 db

c) Ha az első tizenöt dobás átlaga 4,2, akkor az első tizenöt dobás összege 63. Ha Csaba az 1. sorszámú mezőről indul és egyszer sem ütötték ki, akkor 40 lépés után újra az 1. sorszámú mezőn áll, tehát 63 lépés után a 24. sorszámú mezőn áll a figurája.

d) Egy szabályos dobókockával dobva 6-féle lehetőségünk van a dobásra (összes eset). László egyféleképpen, egy db 2-es dobással tudja kiütni Csabát (kedvező eset). A keresett valószínűség  $\frac{1}{6}$ .

**3.** Egy körhöz az  $O$  középpontjától 7 cm-re levő külső  $P$  pontból szelőt húzunk. A szelő körrel vett  $A$  és  $B$  metszéspontjai  $P$ -től rendre 4 cm, illetve 8 cm távolságra vannak.

- a) Milyen hosszú érintőszakasz húzható  $P$ -ből a körhöz? (3 pont)  
 b) Mekkora szögben látszik az  $OB$  szakasz a  $P$  pontból? (4 pont)  
 c) Számítsuk ki az  $ODE$  háromszög területét, ahol  $D$  az  $AB$  húr felezőpontja,  $E$  pedig az érintési pont. (7 pont)

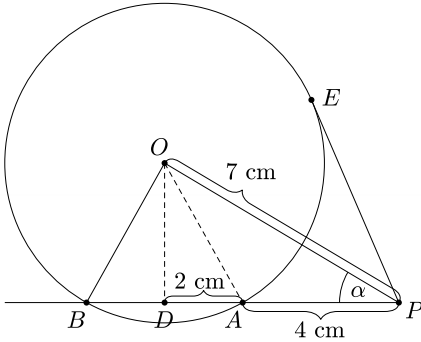


1. ábra

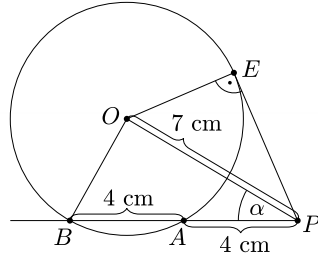
**Megoldás.** a) A körhöz húzott érintő- és szelőszakaszok tétele alapján a  $PE$  érintőszakasz hossza:  $PE = \sqrt{PA \cdot PB}$ , ahonnan  $PE = \sqrt{4 \cdot 8} = \sqrt{32}$  ( $\approx 5,66$ ) cm (1. ábra).

b) I. megoldás. Az  $OA$  szakaszt behúzva, az  $ABO$  háromszög egyenlő szárú lesz, melynek alaphoz tartozó  $OD$  magassága felezi az  $AB$  szakaszt (2. ábra). A  $POD$  derékszögű háromszögben  $\cos \alpha = \frac{6}{7}$ , ahonnan  $\alpha \approx 31^\circ$ .

Az  $OB$  szakasz a  $P$  pontból körülbelül  $31^\circ$ -os szögben látszik.



2. ábra



3. ábra

II. megoldás. Mivel a  $PE$  érintő merőleges az  $E$  érintési pontba húzott  $OE$  sugárra, ezért az  $OEP$  derékszögű háromszögből Pitagorasz tételének segítségével  $OE = OB = \sqrt{49 - 32} = \sqrt{17}$  (3. ábra). A  $POB$  háromszögre alkalmazva a koszinusztételt:

$$17 = 49 + 64 - 2 \cdot 7 \cdot 8 \cdot \cos \alpha, \quad \text{melyből} \quad \cos \alpha = \frac{6}{7},$$

ahonnan  $\alpha \approx 31^\circ$ .

Az  $OB$  szakasz a  $P$  pontból körülbelül  $31^\circ$ -os szögben látszik.

c) A  $POD$  derékszögű háromszögben  $\sin \beta = \frac{6}{7}$ , ahonnan  $\beta \approx 59^\circ$ , valamint a Pitagorasz-tétel miatt

$$OD = \sqrt{49 - 36} = \sqrt{13}$$

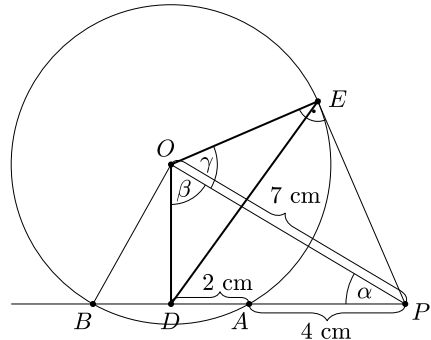
(4. ábra). Az  $ODB$  derékszögű háromszögből szintén Pitagorasz tétele miatt

$$OB = OE = \sqrt{4 + 13} = \sqrt{17}.$$

Az  $OEP$  derékszögű háromszögben  $\cos \gamma = \frac{\sqrt{17}}{7}$ , ahonnan  $\gamma \approx 53,9^\circ$ .

Az  $ODE$  háromszög területe a trigonometrikus területképlet alapján:

$$T_{ODE\Delta} = \frac{\sqrt{13} \cdot \sqrt{17} \cdot \sin(\beta + \gamma)}{2} \approx 6,85 \text{ cm}^2.$$



4. ábra

4. Egy  $\{a_n\}$  számtani sorozat első tagja 3, differenciája 5, egy  $\{b_n\}$  számtani sorozat első tagja 2, differenciája 1.

a) Határozzuk meg, hogy hány darab háromjegyű köbszám szerepel az  $\{a_n\}$  sorozat első 100 tagja között. (4 pont)

b) A  $\{b_n\}$  sorozat első 85 tagja közül hányféleképpen lehet 5 különböző számot kiválasztani úgy, hogy a kiválasztott számok mértani sorozatot alkossanak? (10 pont)

**Megoldás.** a) Az  $\{a_n\}$  számtani sorozat 100. tagja  $a_{100} = 3 + 99 \cdot 5 = 498$ . A 100. tagig 3 db háromjegyű köbszám van: 125, 216 és 343, melyek közül csak a 343 tagja a sorozatnak.

b) Olyan növekvő öttagú mértani sorozatot keresünk, amelyben minden tag a  $[2; 86]$  intervallumba eső pozitív egész szám.

A mértani sorozat ismert képletét alkalmazva  $a_n = a_1 \cdot q^{n-1}$ , ahol  $n = 1, 2, 3, 4$  vagy 5. Mivel a kihúzott számok különbözőek, ezért  $q > 1$ .

Az  $a_n = a_1 \cdot q^{n-1}$  egész szám, ezért  $q$  racionális szám, mely felírható pozitív egészek hányadosaként,  $q = \frac{k}{m}$  alakban, ahol  $k$  és  $m$  relatív prímek.

Ha  $q$  nem egész, akkor  $m \geq 2$ ,  $k \geq m + 1$ , és ha az  $a_1 \cdot \left(\frac{k}{m}\right)^4$  egész, akkor  $m^4$  osztója  $a_1$ -nek. Ekkor

$$86 \geq \frac{a_1}{m^4} \cdot k^4 \geq k^4 \geq 3^4 = 81.$$

Az egyetlen ilyen lehetséges eset, ha  $k = 3$ ,  $\frac{a_1}{m^4} = 1$ ; ekkor  $m = 2$ ,  $a_1 = 16$ , így a keresett számok: 16, 24, 36, 54, 81.

Ha  $q$  egész, akkor lehetséges értékei 2 vagy 3, hiszen  $4^4 > 86$ .

Ha  $q = 2$ , akkor  $a_1$  lehetséges értékeit is figyelembe véve, a következő 4 sorozat adódik: 2, 4, 8, 16, 32; 3, 6, 12, 24, 48; 4, 8, 16, 32, 64; 5, 10, 20, 40, 80.

Ha  $q = 3$ , akkor nincs a feltételeknek megfelelő sorozat.

Tehát összesen 5 különböző kiválasztás lehetséges.

## II. rész

5. Adott a nemnegatív valós számok halmazán értelmezett  $f(x) = 2x - x\sqrt{x}$  függvény.

a) Adjuk meg az alábbi állítás logikai értékét (igaz vagy hamis): (8 pont)

Az  $A(-1; 5)$  és  $B(4; 0)$  pontokra illeszkedő egyenes éppen az  $f$  függvény  $B$  pontbeli érintője.

b) Számítsuk ki az  $f$  függvény grafikonja és az  $x$  tengely által határolt korlátos síkidom területét. (8 pont)

**Megoldás.** a) A két pontra illeszkedő egyenes egyenletébe behelyettesítve:  $(x + 1) \cdot (0 - 5) = (y - 5) \cdot (4 + 1)$ , melyből az egyenes egyenlete  $y = -x + 4$ . A  $B$ -ben húzott érintő meredekségét az  $f$  deriváltfüggvényének az  $x = 4$  helyen felvett helyettesítési értéke adja meg:

$$f'(x) = 2 - \frac{3}{2} \cdot x^{\frac{1}{2}}, \quad \text{ahonnan} \quad f'(4) = 2 - \frac{3}{2} \cdot \sqrt{4} = -1.$$

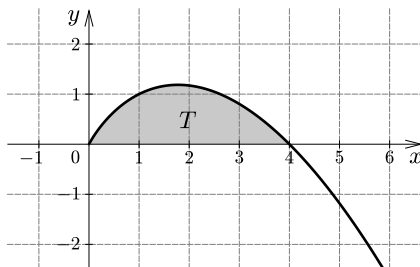
Az érintő egyenlete:  $y - 0 = (-1) \cdot (x - 4)$ , vagyis  $y = -x + 4$ .

Tehát az állítás igaz.

b) Az  $f$  függvény és az  $x$  tengely metszéspontjait a  $2x - x\sqrt{x} = 0$  egyenlet gyökei adják. Az egyenletet szorzattá alakítva:  $x(2 - \sqrt{x}) = 0$ , melynek gyökei 0 és 4.

Mivel a  $(0; 4)$  intervallumon

$$x(2 - \sqrt{x}) > 0,$$



ezért itt az  $f$  függvény grafikonja az  $x$  tengely felett helyezkedik el. Tehát a keresett  $T$  terület:

$$T = \int_0^4 (2x - x\sqrt{x}) \, dx = \left[ x^2 - \frac{2}{5} \cdot x^{\frac{5}{2}} \right]_0^4 = \left( 4^2 - \frac{2}{5} \cdot 4^{\frac{5}{2}} \right) - 0 = 3,2.$$

6. Az alábbi táblázatban egy nagyáruházban dolgozók havi bruttó bérének gyakorisága látható.

Bruttó bér (ezer Ft)	95	110	120	125	160	200	230
Gyakoriság	7	4	2	5	3	2	1

a) Melyik az a bérérték, amelynél a dolgozók legalább fele nem keres kevesebbet, legalább fele pedig nem keres többet? (2 pont)

b) Mennyivel változik a havi bruttó bérek szórása, ha a dolgozók egységesen 10%-os béremelést kapnak? (4 pont)

Az áruházban számos furfangos trükköt alkalmaznak a termékek elhelyezésére azért, hogy a vásárlók pontosan azokat az árucikkeket vegyék meg, amelyeken a bolt a legtöbbet keresi. Az egyik ilyen trükk a polcok különböző zónákra osztása, melyet az alábbi táblázatban láthatunk.

Zónák	Vásárlási valószínűség az adott polcra	A polcon található termékek átlagára
Nyújtózkodási zóna	0,1	1400 Ft
Szemmagassági zóna	0,5	900 Ft
Kézrel elérhető zóna	0,3	700 Ft
Lehajló zóna	0,1	400 Ft

c) Mekkora a vásárlási összeg várható értéke egy áru fenti polcrendszerrel történő vásárlása esetén? (2 pont)

A nagyáruházban az egyik délután megfigyelték, hogy 65% annak a valószínűsége, hogy egy véletlenszerűen választott vásárló nő. Ebben az időszakban a nőknél 70% az esélye, hogy kártyával fizetnek, míg a férfiak csak 40%-ban fizetnek kártyával.

d) Mekkora annak a valószínűsége, hogy a pénztárnál sorban álló 8 ember közül pontosan 5 nő? (3 pont)

e) Mekkora annak a valószínűsége, hogy egy véletlenszerűen választott vásárló kártyával fizet? (5 pont)

**Megoldás.** a) A keresett bérérték a medián, ami 120 000 Ft.

b) Ha minden dolgozó bérét 10%-kal megemelik, akkor az átlagkereset is 10%-kal nő, mert

$$\bar{x}' = \frac{1,1 \cdot x_1 + 1,1 \cdot x_2 + \dots + 1,1 \cdot x_n}{n} = \frac{1,1 \cdot (x_1 + x_2 + \dots + x_n)}{n} = 1,1 \cdot \bar{x}.$$

Az előbbiek miatt a bérek szórása is 10%-kal nő, hiszen

$$\begin{aligned} \sigma' &= \sqrt{\frac{1}{n} \cdot \sum_{i=1}^n (1,1 \cdot x_i - 1,1 \cdot \bar{x})^2} = \sqrt{\frac{1}{n} \cdot \sum_{i=1}^n 1,1^2 \cdot (x_i - \bar{x})^2} = \\ &= \sqrt{\frac{1}{n} \cdot 1,1^2 \cdot \sum_{i=1}^n (x_i - \bar{x})^2} = 1,1 \cdot \sqrt{\frac{1}{n} \cdot \sum_{i=1}^n (x_i - \bar{x})^2}. \end{aligned}$$

c) A vásárlási összeg várható értéke az egyes polcokon levő termékek árának és az onnan történő vásárlási valószínűségek szorzatainak összege:

$$E(x) = 1400 \cdot 0,1 + 900 \cdot 0,5 + 700 \cdot 0,3 + 400 \cdot 0,1 = 840 \text{ Ft.}$$

d) Annak a valószínűsége, hogy egy véletlenszerűen választott vásárló nő  $p = 0,65$ , annak a valószínűsége, hogy férfi  $q = 0,35$ . A binomiális eloszlás alapján a keresett valószínűség:

$$\binom{8}{5} \cdot 0,65^5 \cdot 0,35^3 \approx 0,2786.$$

e) *I. megoldás (feltételes valószínűség nélkül).* Tekintsünk 200 főt, akik a vizsgált időszakban az áruházban vásároltak. Ekkor a vásárlók közül 130 fő nő, 70 fő pedig férfi. A nők közül 91 fő vásárolt kártyával, míg a férfiak közül 28 fő. A kártyával vásárlók száma az összes vásárló számának  $\frac{119}{200} = 0,595$ -ed része.

A kiszámított arány független a konkrét darabszámtól, az csupán az eloszlástól függ, így a keresett valószínűség 0,595.

*II. megoldás (feltételes valószínűséggel).* Jelölje  $A$  azt az eseményt, hogy a kiválasztott vásárló nő,  $B$  azt, hogy a kiválasztott vásárló férfi,  $K$  pedig azt, hogy a kiválasztott vásárló kártyával fizet.

A feladat szövege alapján  $P(A) = 0,65$ ,  $P(B) = 0,35$ ,  $P(K | A) = 0,7$ , illetve  $P(K | B) = 0,4$ .

A feltételes valószínűség definíciója alapján:

$$P(K | A) = \frac{P(KA)}{P(A)}, \quad \text{valamint} \quad P(K | B) = \frac{P(KB)}{P(B)}.$$

Annak a valószínűsége, hogy egy véletlenszerűen választott vásárló kártyával fizet:

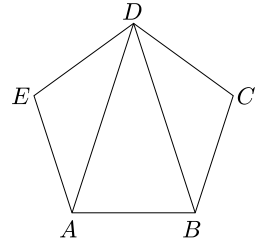
$$P(K | A) \cdot P(A) + P(K | B) \cdot P(B) = 0,7 \cdot 0,65 + 0,4 \cdot 0,35 = 0,595.$$

7. Adott az ábrán látható szabályos ötszög.

a) Igazoljuk, hogy az ötszögben  $AB^2 = AP \cdot AD$ , ha  $P$  az  $AD$  átló és az  $ABD$  háromszög  $B$  csúcsából induló belső szögfelezőjének metszéspontja. (8 pont)

b) Hány különböző kört határoznak meg egy 5 pontú teljes gráf élei? (8 pont)

(Két kört azonosnak tekintünk, ha mindkettőben ugyanazok a csúcsok és ugyanazok az élek szerepelnek.)

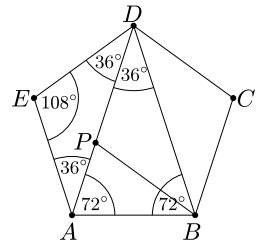


**Megoldás.** a) A szabályos ötszög belső szögei  $108^\circ$ -osak, ezért az  $ABD$  egyenlő szárú háromszög alapon fekvő szögei  $72^\circ$ -osak, szárszöge pedig  $36^\circ$ -os.

Az  $ABD$  háromszög  $B$  csúcsából induló belső szögfelezőjét behúzza, a megfelelő szögek egyenlősége miatt az  $ABP$  és  $BDP$  háromszögek is egyenlő szárúak lesznek, amiből következik, hogy  $AB = BP = PD$ .

A szögfelezőtétel szerint:  $\frac{AP}{PD} = \frac{AB}{BD}$ , valamint  $PD = AB$  és  $BD = AD$ , amit behelyettesítve kapjuk, hogy:

$$\frac{AP}{AB} = \frac{AB}{AD}, \quad \text{ahonnan} \quad AB^2 = AP \cdot AD.$$



*Megjegyzés:* A bizonyítandó állítás geometriai jelentése, hogy a  $P$  pont éppen az aranymetszés arányában osztja két részre az  $AD$  átlót.

b) Számoljuk össze a köröket a bennük szereplő élek száma alapján.

1 és 2 hosszú kör nyilván nincs a gráfban, ezek lennének ugyanis a hurokélek és a többszörös élek.


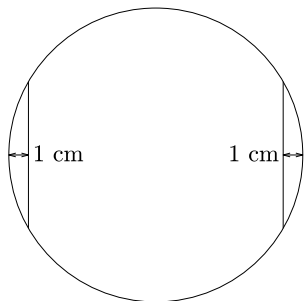
A 3 hosszú körök száma  $\binom{5}{3} = 10$ , hiszen bármely három pont pontosan egy kört határoz meg.

A 4 hosszú körök száma  $\binom{5}{4} \cdot 3 = 15$ , hiszen 4 pontot  $\binom{5}{4}$ -féleképpen választhatunk ki, és pl. az  $A-B-C-D$ ;  $B-C-D-A$ ;  $C-D-A-B$ ;  $D-A-B-C$ ;  $D-C-B-A$  stb. körök megegyeznek, de különböznek az  $A-B-D-C$  és az  $A-C-B-D$  és az azokkal megegyező köröktől, vagyis 4 ponthoz 3 különböző kört rendelhetünk hozzá.

5 csúcsot  $5!$ -féleképpen rendezhetünk sorba. A ciklikus szimmetria miatt egyegy kört 5 sorrend is meghatároz, illetve minden kör két irányba is bejárható: pl. az  $A-B-C-D-E$  kör és az  $A-E-D-C-B$  kör is megegyezik. Tehát az 5 hosszú körök száma  $\frac{5!}{5 \cdot 2} = 12$ .

Tehát a kérdéses körök száma 37.





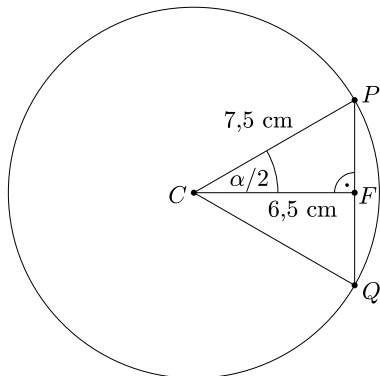
8. Egy erdei turistautat átszelő patak fölött az erdészet hidat készít, amihez 22 db 15 cm átmérőjű, henger alakú farönköt használnak, melyek hossza 1,2 m. A jobb illesztés érdekében a rönköket a forgástengelyükkel párhuzamosan, 1-1 cm-es maximális mélységben, teljes hosszukban az ábra szerint mindkét oldalon legyalulják, és ezeknek az egyenes felületeknek a mentén fogatják össze a darabokat. A híd két végénél lévő két farönköt csak az egyik oldaluknál gyalulják le.

a) Mennyi faanyagot tartalmaz a híd elkészített állapotában? (8 pont)

A farönkök legyalulása után azok mindegyikének teljes felületét egyesével lefestik.

b) Mekkora lesz az összes lefestett felület nagysága? (8 pont)

**Megoldás.** a) Számítsuk ki a 22 farönk térfogatát, majd vonjuk ki belőle a gyalulás során keletkező hulladék térfogatát.



A  $CFP$  derékszögű háromszögben  $\cos \frac{\alpha}{2} = \frac{6,5}{7,5}$ , amiből  $\alpha \approx 59,85^\circ$ . Mivel egy körben a középponti szög nagysága egyenesen arányos a hozzá tartozó körcikk területével, ezért

$$T_{\text{körcikk}} = \frac{\alpha \cdot 7,5^2 \cdot \pi}{360^\circ} (\approx 29,38 \text{ cm}^2),$$

valamint

$$T_{CPQ\Delta} = \frac{7,5^2 \cdot \sin \alpha}{2} (\approx 24,32 \text{ cm}^2),$$

így egy körszelet területe:

$$T_{\text{körszelet}} = T_{\text{körcikk}} - T_{CPQ\Delta} \approx 5,06 \text{ cm}^2.$$

A keresett térfogat:

$$V = 22 \cdot 7,5^2 \cdot \pi \cdot 120 - 21 \cdot 2 \cdot T_{\text{körszelet}} \cdot 120 \approx 0,44 \text{ m}^3.$$

A híd kb.  $0,44 \text{ m}^3$  faanyagot tartalmaz elkészített állapotában.

b) A lefestett felület nagyságának meghatározásához számítsuk ki a 22 farönk (20 db „középső” és 2 db „szélső”) felszínét. A  $CFP$  derékszögű háromszögben egyrészt  $PF = \sqrt{PC^2 - FC^2} \approx 3,74 \text{ cm}$ , amiből  $PQ \approx 7,48 \text{ cm}$ ; másrészt  $\cos \frac{\alpha}{2} = \frac{6,5}{7,5}$ , amiből  $\alpha \approx 59,85^\circ$ .

Mivel egy körben az adott középponti szöghöz tartozó ív hossza egyenesen arányos a kör területével, ezért

$$i_\alpha = \frac{\alpha \cdot 2 \cdot 7,5 \cdot \pi}{360^\circ} (\approx 7,83 \text{ cm}), \quad T_{\text{körcikk}} = \frac{i_\alpha \cdot 7,5}{2} (\approx 29,38 \text{ cm}^2),$$

$$T_{CPQ\Delta} = \frac{7,5^2 \cdot \sin \alpha}{2} (\approx 24,32 \text{ cm}^2),$$

így  $T_{\text{körselet}} = T_{\text{körcikk}} - T_{CPQ\Delta} \approx 5,06 \text{ cm}^2$ .

Egy „középső” farönk felszíne:

$$T_{\text{alap (középső)}} = 2 \cdot (7,5^2 \cdot \pi - 2 \cdot T_{\text{körselet}}) (\approx 333,19 \text{ cm}^2),$$

$$T_{\text{palást (középső)}} = (2 \cdot 7,5 \cdot \pi - 2 \cdot i_\alpha + 2 \cdot PQ) \cdot 120 (\approx 5570,87 \text{ cm}^2),$$

$$A_{\text{középső}} = T_{\text{alap (középső)}} + T_{\text{palást (középső)}} (\approx 5904,06 \text{ cm}^2).$$

Egy „szélső” farönk felszíne:

$$T_{\text{alap (szélső)}} = 2 \cdot (7,5^2 \cdot \pi - T_{\text{körselet}}) (\approx 343,31 \text{ cm}^2),$$

$$T_{\text{palást (szélső)}} = (2 \cdot 7,5 \cdot \pi - i_\alpha + PQ) \cdot 120 (\approx 5612,87 \text{ cm}^2),$$

$$A_{\text{szélső}} = T_{\text{alap (szélső)}} + T_{\text{palást (szélső)}} (\approx 5956 \text{ cm}^2).$$

A lefestendő összes felület nagysága:

$$A = 20 \cdot A_{\text{középső}} + 2 \cdot A_{\text{szélső}} \approx 13 \text{ m}^2.$$

A lefestett felület nagysága kb.  $13 \text{ m}^2$ .

**9. Tekintsük az**

$$a_n = \left\{ \frac{1}{(n+1)\sqrt{n} + n\sqrt{n+1}} \right\}$$

sorozatot, ahol  $n \in \mathbb{N}^+$ .

a) *Igazoljuk, hogy az  $\{a_n\}$  sorozat első  $n$  tagjának összege  $S_n = 1 - \frac{\sqrt{n+1}}{n+1}$ .*  
(9 pont)

b) *Határozzuk meg a  $\lim_{n \rightarrow \infty} \left(1 - \frac{\sqrt{n+1}}{n+1}\right)$  határértéket, majd adjuk meg, hogy a sorozat tagjai hányadik tagtól kezdve esnek a határérték  $\varepsilon = 0,01$  sugarú környezetébe.*  
(7 pont)

**Megoldás.** a) *I. megoldás (teljes indukcióval).*

1. lépés: nézzük meg, hogy az állítás  $n = 1$ -re igaz-e:

$$a_1 = \frac{1}{2 + \sqrt{2}} = \frac{1}{2 + \sqrt{2}} \cdot \frac{2 - \sqrt{2}}{2 - \sqrt{2}} = \frac{2 - \sqrt{2}}{2} = 1 - \frac{\sqrt{2}}{2} = S_1,$$

tehát az állítás  $n = 1$ -re igaz.

2. lépés: Tegyük fel, hogy az állítás  $n = k$ -ra igaz, azaz az első  $k$  tag összege  $S_k = 1 - \frac{\sqrt{k+1}}{k+1}$ . Ez lesz az indukciós feltevés.

3. lépés: Nézzük meg, hogy  $n = k$ -ról  $n = (k + 1)$ -re „öröklődik”-e az állítás. Bizonyítandó, hogy:

$$\left( \frac{1}{2\sqrt{1} + 1\sqrt{2}} + \frac{1}{3\sqrt{2} + 2\sqrt{3}} + \dots + \frac{1}{(k+1)\sqrt{k} + k\sqrt{k+1}} \right) + \frac{1}{(k+2)\sqrt{k+1} + (k+1)\sqrt{k+2}} = 1 - \frac{\sqrt{k+2}}{k+2}.$$

A zárójelben szereplő összeg az indukciós feltevés miatt  $S_k = 1 - \frac{\sqrt{k+1}}{k+1}$ , ekkor

$$\begin{aligned} & 1 - \frac{\sqrt{k+1}}{k+1} + \frac{1}{(k+2)\sqrt{k+1} + (k+1)\sqrt{k+2}} = \\ & = 1 - \frac{\sqrt{k+1}}{k+1} + \frac{(k+2)\sqrt{k+1} - (k+1)\sqrt{k+2}}{(k+2)^2(k+1) - (k+1)^2(k+2)} = \\ & = 1 - \frac{\sqrt{k+1}}{k+1} + \frac{(k+2)\sqrt{k+1} - (k+1)\sqrt{k+2}}{(k+1)(k+2)} = \\ & = 1 + \frac{(k+2)\sqrt{k+1} - (k+1)\sqrt{k+2} - (k+2)\sqrt{k+1}}{(k+1)(k+2)} = \\ & = 1 - \frac{(k+1)\sqrt{k+2}}{(k+1)(k+2)} = 1 - \frac{\sqrt{k+2}}{k+2}. \end{aligned}$$

Ezt szerettük volna belátni.

*II. megoldás.* Tekintsük az  $\{a_n\}$  sorozat tetszőleges tagját:

$$\frac{1}{(k+1)\sqrt{k} + k\sqrt{k+1}}.$$

A tört nevezőjét gyöktelenítve:

$$\begin{aligned} & \frac{1}{(k+1)\sqrt{k} + k\sqrt{k+1}} \cdot \frac{(k+1)\sqrt{k} - k\sqrt{k+1}}{(k+1)\sqrt{k} - k\sqrt{k+1}} = \\ & = \frac{(k+1)\sqrt{k} - k\sqrt{k+1}}{(k+1)^2k - k^2(k+1)} = \frac{(k+1)\sqrt{k} - k\sqrt{k+1}}{k(k+1)} = \frac{\sqrt{k}}{k} - \frac{\sqrt{k+1}}{k+1}. \end{aligned}$$

Az előbbieket ismeretében a sorozat első  $n$  tagjának összege a következőképpen írható:

$$S_n = \frac{\sqrt{1}}{1} - \frac{\sqrt{2}}{2} + \frac{\sqrt{2}}{2} - \frac{\sqrt{3}}{3} + \dots + \frac{\sqrt{n}}{n} - \frac{\sqrt{n+1}}{n+1}.$$

A teleszkópikus összeg közbülső tagjai „kiesnek”, így  $S_n = 1 - \frac{\sqrt{n+1}}{n+1}$ . Ezt szerettük volna belátni.

b) A tört számlálójában és nevezőjében minden tagot  $n$ -nel elosztva kapjuk, hogy:


$$\lim_{n \rightarrow \infty} \left( 1 - \frac{\sqrt{n+1}}{n+1} \right) = \lim_{n \rightarrow \infty} \left( 1 - \frac{\sqrt{\frac{1}{n} + \frac{1}{n^2}}}{1 + \frac{1}{n}} \right) = 1 - \frac{0}{1} = 1.$$

A határérték definíciója alapján:

$$\left| 1 - \frac{\sqrt{n+1}}{n+1} - 1 \right| < \frac{1}{100}, \quad \text{vagyis} \quad \left| \frac{\sqrt{n+1}}{n+1} \right| < \frac{1}{100}.$$

Mivel  $n$  pozitív egész, ezért  $\frac{\sqrt{n+1}}{n+1} < \frac{1}{100}$ , melyet rendezve  $0 < n^2 - 9998n - 9999$ . Az egyenlőtlenség pozitív zérushelye 9999, így az ennél nagyobb természetes számok megfelelnek küszöbértéknek.

Varga Péter  
Budapest



## Matematika feladatok megoldása

**B. 4841.** Az  $O$  középpontú  $k$  kör az  $e$  egyenest az  $A$  és  $B$  pontokban, az  $OB$  szakaszfelező merőlegesét pedig a  $C$  és  $D$  pontokban metszi. Mutassuk meg, hogy a  $COA$  szögfelezője és az  $e$  egyenes  $60$  fokos szöget zárnak be.

(3 pont)

**Megoldás.** Az  $OCB$  háromszög szabályos, ugyanis  $OC = OB$  sugarak, továbbá  $OC = CB$  is teljesül, mert  $C$  az  $OB$  szakaszfelező merőlegesének egy pontja. Tehát  $BOC$  szög  $60^\circ$ .

Az  $AOB$  háromszög egyenlő szárú, mert  $AO$  és  $OB$  a kör sugara. Legyen  $OAB$  szög  $= OBA$  szög  $= \alpha$ .

A  $COA$  szögfelezője a szöget két egyenlő  $\beta$  szögre bontja.

Most használjuk fel, hogy az  $AOB$  háromszögben a belső szögek összege  $180^\circ$ :

$$OAB \text{ szög} + OBA \text{ szög} + AOB \text{ szög} = 2\alpha + 2\beta + 60^\circ = 180^\circ.$$

Ebből azonnal adódik, hogy  $\alpha + \beta = 60^\circ$ .

